

ТЕСТ ПО ОСНОВАМ ПДД И БЕЗОПАСНОМУ ПОВЕДЕНИЮ НА ДОРОГАХ

3 класс



ПРЕЗЕНТАЦИЮ РАЗРАБОТАЛ:
РУКОВОДИТЕЛЬ СТРУКТУРНОГО ПОДРАЗДЕЛЕНИЯ МБУ ДО «ЦРДМ»
О.Л. ОРЛОВА

Где должны передвигаться пешеходы?

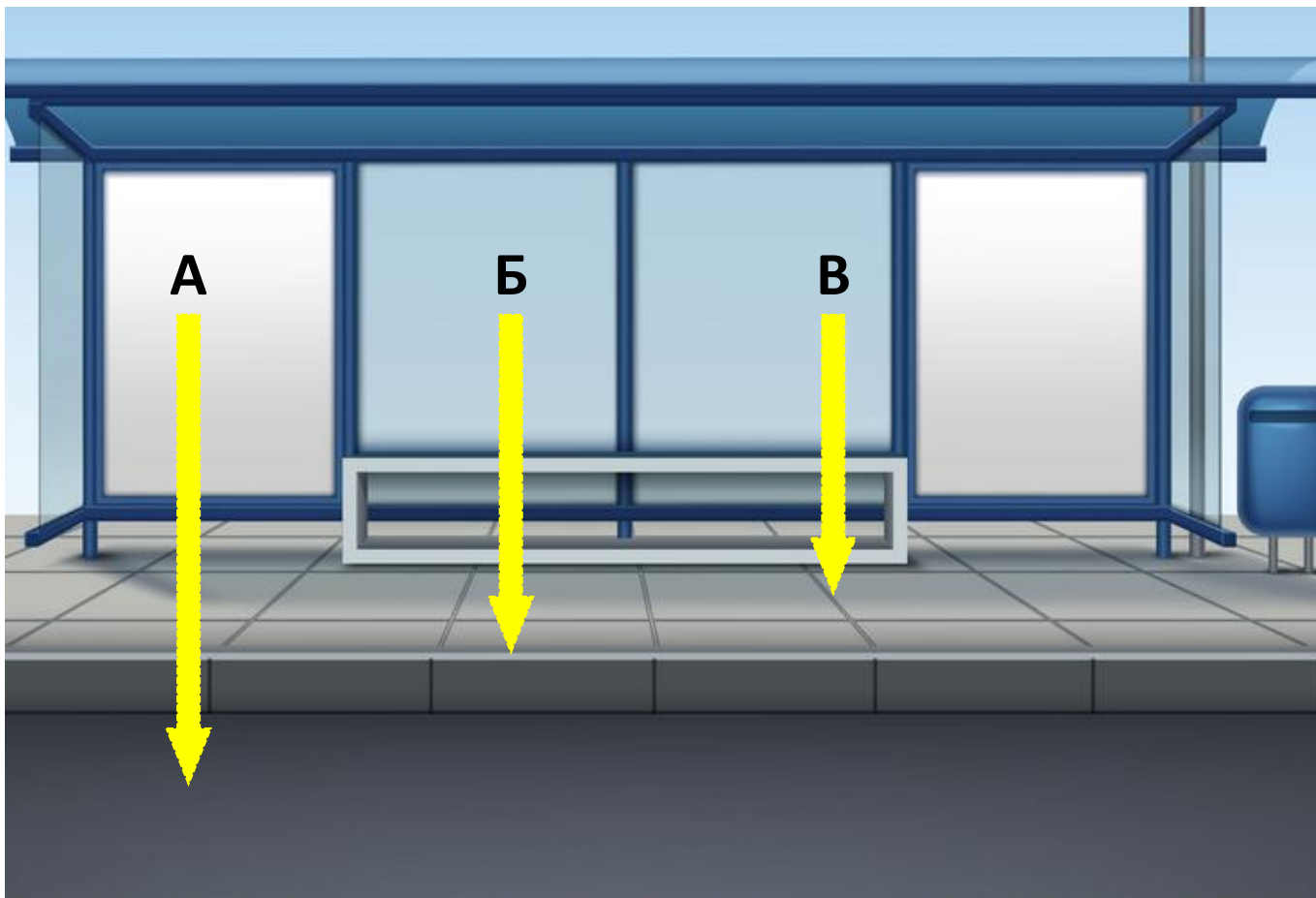
1.



- а) По тротуарам, пешеходным и велопешеходным дорожкам, за городом - по обочинам ;
- б) Пешеходы могут передвигаться везде, поскольку они на дороге главные

Где следует ожидать общественный транспорт?

2.



- а) На краю проезжей части дороги;
- б) На бордюре тротуара;
- в) На тротуаре, не подходя к краю

3.


По какому маршруту пешеходу разрешается пересечь проезжую часть, двигаясь к остановке?



- а) По маршруту 1;
- б) По маршруту 2;
- в) По любому из маршрутов

Как пешеходы должны двигаться по обочине?

4.



- а) Путь А – по направлению движения транспорта;
- б) Путь Б – навстречу движению транспорта

Разрешается ли движение пешехода в показанной ситуации при наличии тротуара?

5.



- а) Не разрешается;**
- б) Разрешается, если пешеход не создает препятствие для движения велосипедистов**

Какое правило нарушил велосипедист?

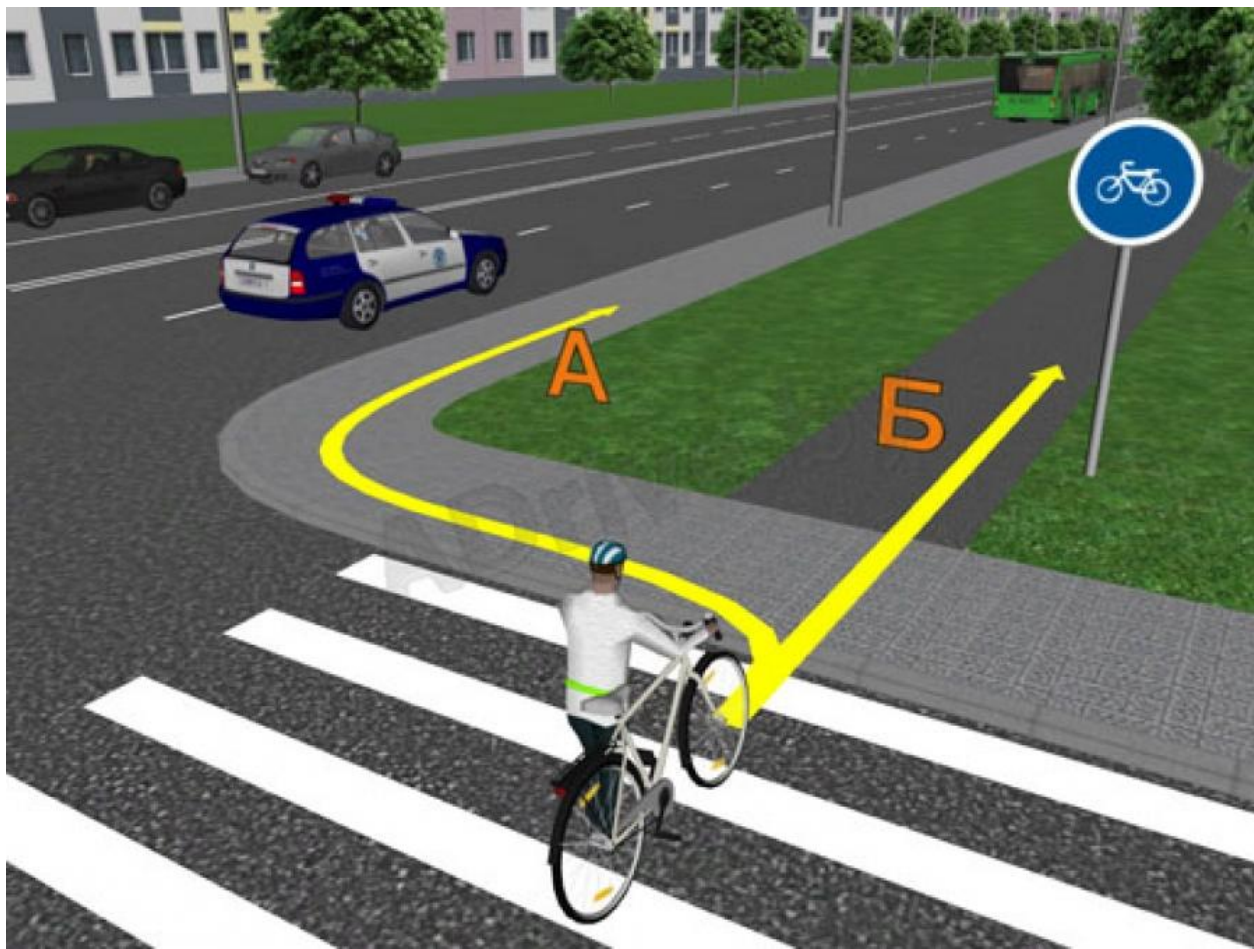
6.



- а) Не показал знак остановки рукой;
- б) Не слез с велосипеда

Какой путь должен выбрать велосипедист?

7.



- а) Путь А;
- б) Путь Б;
- в) Любой путь

8.

Пассажиров какого возраста разрешено перевозить на велосипеде в специальном кресле?



- а) Детей до 14 лет;**
- б) Детей до 7 лет;**
- в) Пассажиров любого возраста**

Перечислите, какие правила безопасности нарушил пешеход при переходе загородной дороги?

9.



- а) Не снял наушники;**
- б) Не смотрит по сторонам;**
- в) Не вынул руки из карманов;**
- г) Не пропустил автомобиль**

Можно ли начинать переход проезжей части сразу после того, как загорелся зеленый сигнал пешеходного светофора?

10.



- а) Да, можно;**
- б) Нет, сначала нужно убедиться, что все автомобили остановились**

Перечислите, какие знаки разрешают пешеходу переход проезжей части

11.



А



Б



В



Г



Д



Е

К какой группе относятся эти знаки?

12.



а) Запрещающие знаки;

б) Предупреждающие знаки